


# Guía de ejercicios Matemática


## Números ordinales hasta el décimo


Nombre: \_\_\_\_\_ Curso: \_\_\_\_\_ Fecha: \_\_\_\_\_

1- Encierra el objeto en el lugar indicado. Utiliza un  o un  según corresponda.


Noveno <input type="checkbox"/>	
Sexto <input type="radio"/>	


10° <input type="radio"/>	
7° <input type="checkbox"/>	

1° <input type="checkbox"/>	
9° <input type="radio"/>	

Octavo <input type="checkbox"/>	
Quinto <input type="radio"/>	

2- Encierra el auto que se encuentra en el lugar indicado.

10° décimo	
------------	--

8° octavo	
-----------	--

3- Encierra la mujer que se encuentra en el lugar indicado de la fila para comprar.



3- ¿En qué lugar se encuentra la mujer que está regando, si contamos desde la izquierda?



Se encuentra en el \_\_\_\_\_ lugar.

4- ¿En qué lugar se encuentra la mujer que está con la guitarra, si contamos desde la derecha?



Se encuentra en el \_\_\_\_\_ lugar